



Euro und Cent

Cent 1

Wie viele Cent sind das?













Euro und Cent

Cent 2

Wie viele Cent sind das?













Euro und Cent

Cent 3

Wie viele Cent sind das?













Euro und Cent

Cent 4

Wie viele Cent sind das?













Euro und Cent
Ergänze auf 20 Euro. 1



Euro und Cent
Ergänze auf 20 Euro. 2





Euro und Cent
Ergänze auf 20 Euro. 3



Euro und Cent
Ergänze auf 20 Euro. 4





Euro und Cent

Wie viele Euro sind das? 1











Euro und Cent

Wie viele Euro sind das? 2









Euro und Cent

Wie viele Euro sind das? 3









Euro und Cent

Wie viele Euro sind das? 4









Euro und Cent

Wie viel Geld ist das? 1









Euro und Cent

Wie viel Geld ist das? 2











Euro und Cent

Wie viel Geld ist das? 4









Name:


Klasse:

Mathematik

Rechnen mit Euro 1



1. Wie viele Euro sind es?



_____ €



_____ €

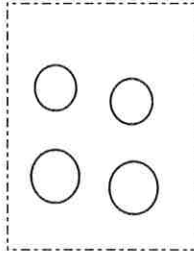


_____ €




_____ €

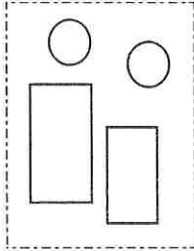
2. Welche Münzen und Scheine sind es?



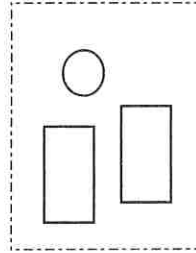
6 €



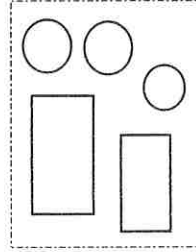
8 €



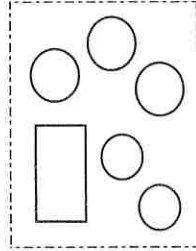
17 €



11 €



20 €



13 €

Name:

Klasse:

Mathematik



Rechnen mit Euro 2

1. Wie viele Euro sind es?



— €



— €

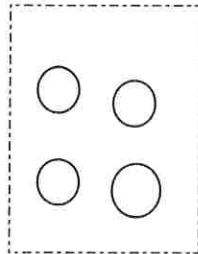


— €

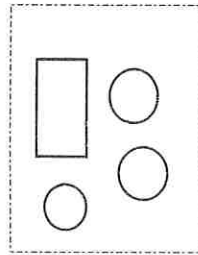


— €

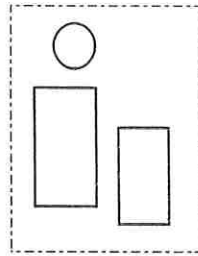
2. Welche Münzen und Scheine sind es?



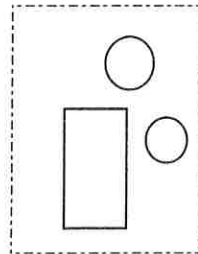
5 €



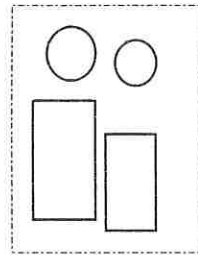
10 €



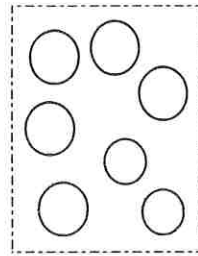
16 €



13 €



18 €



12 €

Name:


Klasse:

Mathematik



Rechnen mit Euro 3

1. Wie viele Euro sind das?




—



—

2. Male immer 5 Euro. Finde verschiedene Möglichkeiten!



5 €



5 €

3. Male immer 7 Euro. Finde alle 6 Möglichkeiten!




7 €



7 €



7 €



7 €



7 €



7 €

Rechnen mit Euro 4



1. Wie viele Euro sind das?



___ €



___ €



___ €

2. Male immer 4 Euro. Finde alle Möglichkeiten!



4 €



4 €



4 €

3. Male immer 8 Euro. Finde verschiedene Möglichkeiten!



8 €



8 €



8 €



8 €



8 €



8 €